


# Αναγνωρίζω τις κάθετες ευθείες

Δύο ευθείες μπορεί να είναι:


α) **Παράλληλες**, δηλαδή να μη συναντιούνται ποτέ όσο και να τις μεγαλώσουμε. Παράδειγμα:



β) **Τεμνόμενες**, δηλαδή να συναντιούνται σε κάποιο σημείο.



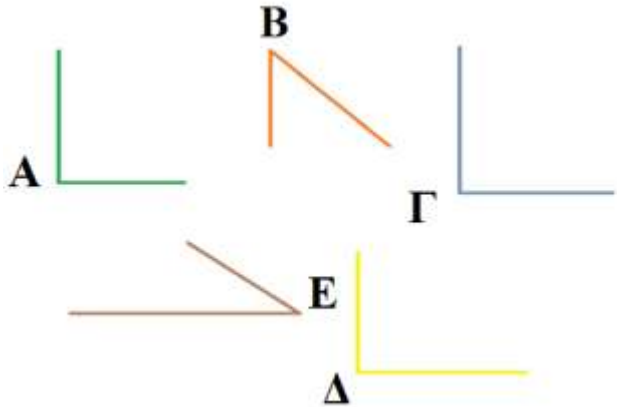
γ) **Κάθετες** (τέμνονται κάθετα), όταν συναντιούνται σε ένα σημείο και σχηματίζουν 4 ορθές γωνίες.



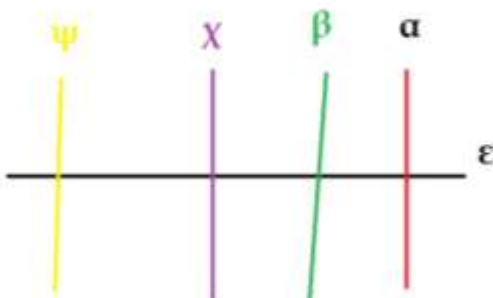
1. Ελέγχω με το γνώμονα τις γωνίες και εντοπίζω ποιες είναι ορθές:

Ορθές είναι οι γωνίες:

.....



2. Ελέγχω με το γνώμονα τις γωνίες και εντοπίζω ποιες ευθείες είναι κάθετες στην ευθεία **α**:



Οι ευθείες, που είναι κάθετες στην ευθεία **α**, είναι:

.....

